



केन्द्रीय औद्योगिक सुरक्षा बल
CENTRAL INDUSTRIAL SECURITY FORCE

Participant ID	Join Telegram Group "HaryanaJobs.in"
Participant Name	Join Telegram Group "HaryanaJobs.in"
Test Center Name	iON Digital Zone iDZ Dholi Magri
Test Date	26/09/2023
Test Time	12:30 PM - 2:30 PM
Subject	Constable (Fire)

Section : General Intelligence and Reasoning

Q.1 निम्नलिखित कथनों और निष्कर्ष को पढ़ें और निम्नलिखित में से सर्वोत्तम विकल्प चुनें।

कथन:

कुछ चींटियाँ तोते हैं।

सभी तोते गाय हैं।

निष्कर्ष:

I. सभी गाय तोते हैं।

II. कुछ चींटियाँ गाय हैं।

- Ans
- ✗ 1. न तो निष्कर्ष I या निष्कर्ष II अनुसरण करता है
- ✓ 2. केवल निष्कर्ष II अनुसरण करता है
- ✗ 3. केवल निष्कर्ष I अनुसरण करता है
- ✗ 4. निष्कर्ष I और निष्कर्ष II दोनों अनुसरण करते हैं

Question ID : 630680371613

Option 1 ID : 6306801447763

Option 2 ID : 6306801447766

Option 3 ID : 6306801447765

Option 4 ID : 6306801447764

Status : Answered

Chosen Option : 2

Q.2 यदि MARIGOLD को AMIROGDL लिखा जाए। उसी कोड में PRODUCER को कैसे लिखा जाएगा?

- Ans
- ✗ 1. PRDOUCRE
- ✓ 2. RPDOCURE
- ✗ 3. PRODRECU
- ✗ 4. RPDOUCER

Question ID : 630680371611

Option 1 ID : 6306801447756

Option 2 ID : 6306801447758

Option 3 ID : 6306801447755

Option 4 ID : 6306801447757

Status : Answered

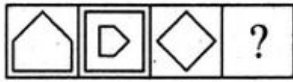
Chosen Option : 2

Q.3 फ़िरोज़, सरोज, हेमा, इलेना और जर्मी एक बेंच पर बैठे हैं। फ़िरोज़, सरोज के बगल में बैठा है, हेमा, इलेना के बगल में बैठी है, इलेना जर्मी के साथ नहीं बैठी है जो बेंच के बाएं छोर पर है। हेमा दायें से दूसरे स्थान पर हैं। फ़िरोज़, सरोज और जर्मी के दाईं ओर है। फ़िरोज़ और हेमा एक साथ बैठे हैं। फ़िरोज़ किस स्थान पर बैठा है?

- Ans
- ✗ 1. सरोज और इलेना के बीच
 - ✗ 2. जर्मी और इलेना के बीच
 - ✗ 3. हेमा और इलेना के बीच
 - ✓ 4. सरोज और हेमा के बीच

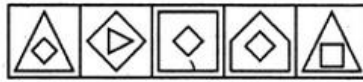
Question ID : 630680371605
 Option 1 ID : 6306801447733
 Option 2 ID : 6306801447734
 Option 3 ID : 6306801447732
 Option 4 ID : 6306801447731
 Status : Answered
 Chosen Option : 4

Q.4 Problem Figures:



(A) (B) (C) (D)

Answer Figures:



(1) (2) (3) (4) (5)

उपरोक्त पांच विकल्पों में से कौन सा विकल्प प्रश्न चिह्न का स्थान लेगा?

- Ans
- ✓ 1. 1
 - ✗ 2. 2
 - ✗ 3. 4
 - ✗ 4. 3

Question ID : 630680371622
 Option 1 ID : 6306801447799
 Option 2 ID : 6306801447800
 Option 3 ID : 6306801447802
 Option 4 ID : 6306801447801
 Status : Answered
 Chosen Option : 1

Q.5 144, 169

निम्नलिखित में से कौन सा युग्म उपरोक्त अभिव्यक्ति के समान है?

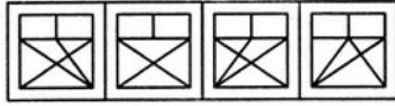
- Ans
- ✓ 1. 25 : 49
 - ✗ 2. 216 : 343
 - ✗ 3. 216 : 49
 - ✗ 4. 8 : 49

Question ID : 630680371627
 Option 1 ID : 6306801447819
 Option 2 ID : 6306801447821
 Option 3 ID : 6306801447822
 Option 4 ID : 6306801447820
 Status : Answered
 Chosen Option : 1

Q.6



(X)



(1)

(2)

(3)

(4)

उपरोक्त चार विकल्पों में से कौन सा विकल्प मूल आकृति X को अंतर्निहित करता है?

Ans 1. 2

2. 1

3. 4

4. 3

Question ID : 630680371620

Option 1 ID : 6306801447792

Option 2 ID : 6306801447791

Option 3 ID : 6306801447794

Option 4 ID : 6306801447793

Status : Answered

Chosen Option : 3

Q.7 121, 101, 112, 92, 103, ? ?

प्रश्न चिन्ह के स्थान पर क्या आएगा?

Ans 1. 82, 95

2. 81, 94

3. 83, 94

4. 80, 92

Question ID : 630680371626

Option 1 ID : 6306801447817

Option 2 ID : 6306801447818

Option 3 ID : 6306801447815

Option 4 ID : 6306801447816

Status : Answered

Chosen Option : 3

Q.8



(X)



(1)



(2)



(3)



(4)

उपरोक्त चार विकल्पों में से प्रश्न चिन्ह के स्थान पर कौन सा विकल्प आएगा?

Ans 1. 3

2. 4

3. 1

4. 2

Question ID : 630680371619

Option 1 ID : 6306801447789

Option 2 ID : 6306801447790

Option 3 ID : 6306801447787

Option 4 ID : 6306801447788

Status : Answered

Chosen Option : 4

Q.9 Given is the set : 75, 35, 40

निम्नलिखित में से कौन सा विकल्प उपरोक्त सेट के समान है?

Ans 1. 20, 5, 16

2. 25, 5, 25

3. 35, 5, 30

4. 35, 5, 40

Question ID : 630680371629

Option 1 ID : 6306801447827

Option 2 ID : 6306801447828

Option 3 ID : 6306801447829

Option 4 ID : 6306801447830

Status : Answered

Chosen Option : 3

Q.10 यदि SUNRISE को ESIRNUS लिखा जाए। उसी कोड में SUNSHINE को कैसे लिखा जाएगा?

Ans 1. ENIHSNUS

2. SUNENISH

3. SUNSHINE

4. ENIHSSUN

Question ID : 630680371610

Option 1 ID : 6306801447753

Option 2 ID : 6306801447752

Option 3 ID : 6306801447754

Option 4 ID : 6306801447751

Status : Answered

Chosen Option : 1

Q.11 निम्नलिखित शब्दों को शब्दकोश के क्रम में व्यवस्थित करें।

1. Glamour
2. Gland
3. Gladiator
4. Glance

Ans 1. 1 2 3 4
 2. 4 3 2 1
 3. 3 1 4 2
 4. 3 4 2 1

Question ID : 630680371607
 Option 1 ID : 6306801447740
 Option 2 ID : 6306801447741
 Option 3 ID : 6306801447739
 Option 4 ID : 6306801447742

Status : Answered

Chosen Option : 3

Q.12 निम्नलिखित विकल्पों में से बेमेल को चुनें?

Ans 1. ओरांव
 2. संथाल
 3. मुंडा
 4. यूरालिस

Question ID : 630680371616
 Option 1 ID : 6306801447776
 Option 2 ID : 6306801447775
 Option 3 ID : 6306801447777
 Option 4 ID : 6306801447778

Status : Answered

Chosen Option : 4

Q.13 आदर्श के माँ की सास के पति आदर्श से किस प्रकार संबंधित हैं?

Ans 1. चाचा
 2. दादा
 3. नाना
 4. पिता

Question ID : 630680371612
 Option 1 ID : 6306801447761
 Option 2 ID : 6306801447759
 Option 3 ID : 6306801447762
 Option 4 ID : 6306801447760

Status : Answered

Chosen Option : 2

Q.14 उत्तर प्रदेश: गंगा

मध्य प्रदेश: ?

प्रश्न चिन्ह के स्थान पर क्या आएगा?

Ans

- ✓ 1. नर्मदा
- ✗ 2. कृष्णा
- ✗ 3. कावेरी
- ✗ 4. ब्रह्मपुत्र

Question ID : 630680371615

Option 1 ID : 6306801447771

Option 2 ID : 6306801447774

Option 3 ID : 6306801447772

Option 4 ID : 6306801447773

Status : Answered

Chosen Option : 1

Q.15 निम्नलिखित विकल्पों में से बेमेल शब्द चुनें?

Ans

- ✓ 1. इंदौर
- ✗ 2. दिसपुर
- ✗ 3. पटना
- ✗ 4. लखनऊ

Question ID : 630680371618

Option 1 ID : 6306801447786

Option 2 ID : 6306801447785

Option 3 ID : 6306801447784

Option 4 ID : 6306801447783

Status : Answered

Chosen Option : 1

Q.16 निम्नलिखित शब्दों को शब्दकोश के क्रम में व्यवस्थित करें।

1. Honour
2. Headache
3. Hegemony
4. Honesty

- Ans
- 1. 2 3 1 4
 - 2. 2 3 4 1
 - 3. 3 2 1 4
 - 4. 3 2 4 1

Question ID : 630680371608

Option 1 ID : 6306801447743

Option 2 ID : 6306801447744

Option 3 ID : 6306801447746

Option 4 ID : 6306801447745

Status : Answered

Chosen Option : 2

Q.17 W का अर्थ है '+', X का अर्थ है '-', Y का अर्थ है 'x' और Z का अर्थ है '+', तो

$$12 Y 14 W 18 X 32 Z 4 = ?$$

- Ans
- 1. 146
 - 2. 170
 - 3. 108
 - 4. 178

Question ID : 630680371624

Option 1 ID : 6306801447809

Option 2 ID : 6306801447810

Option 3 ID : 6306801447807

Option 4 ID : 6306801447808

Status : Answered

Chosen Option : 4

Q.18 एक निश्चित कूट भाषा में, गुणन '+' को दर्शाता है, विभाजन 'x' को दर्शाता है, घटाव '-' और को दर्शाता है जोड़ '-' को दर्शाता है।

इसे हल करें

$$20 \div 10 - 5 + 10 \times 5 = ?$$

- Ans
- 1. 30
 - 2. 35
 - 3. 25
 - 4. 20

Question ID : 630680371625

Option 1 ID : 6306801447814

Option 2 ID : 6306801447813

Option 3 ID : 6306801447812

Option 4 ID : 6306801447811

Status : Answered

Chosen Option : 2

Q.19 निम्नलिखित शब्दों को शब्दकोश के क्रम में व्यवस्थित करें।

1. Brother
2. Brothel
3. Bromine
4. Bronze

- Ans
- 1. 3 4 2 1
 - 2. 1 2 4 3
 - 3. 1 2 3 4
 - 4. 3 4 1 2

Question ID : 630680371606

Option 1 ID : 6306801447736

Option 2 ID : 6306801447738

Option 3 ID : 6306801447735

Option 4 ID : 6306801447737

Status : Answered

Chosen Option : 1

Q.20 बेरीबेरी: विटामिन बी

बाँझपन: ?

प्रश्न चिन्ह के स्थान पर क्या आएगा?

- Ans
- 1. विटामिन A
 - 2. विटामिन C
 - 3. विटामिन E
 - 4. विटामिन D

Question ID : 630680371614

Option 1 ID : 6306801447767

Option 2 ID : 6306801447768

Option 3 ID : 6306801447769

Option 4 ID : 6306801447770

Status : Answered

Chosen Option : 3

Q.21 निम्नलिखित विकल्पों में से बेजोड़ शब्द चुनें? (राज्यों एवं उनकी सीमाओं के आधार पर)

- Ans
- 1. जम्मू और कश्मीर
 - 2. हरियाणा
 - 3. उत्तर प्रदेश
 - 4. अरुणाचल प्रदेश

Question ID : 630680371617

Option 1 ID : 6306801447779

Option 2 ID : 6306801447782

Option 3 ID : 6306801447781

Option 4 ID : 6306801447780

Status : Answered

Chosen Option : 3

Q.22 Given is the set : 132, 11, 12

निम्नलिखित में से कौन सा विकल्प उपरोक्त सेट के समान है?

- Ans
- 1. 90, 9, 10
 - 2. 144, 12, 13
 - 3. 135, 11, 12
 - 4. 121, 11, 12

Question ID : 630680371628

Option 1 ID : 6306801447824

Option 2 ID : 6306801447826

Option 3 ID : 6306801447825

Option 4 ID : 6306801447823

Status : Answered

Chosen Option : 1

Q.23 एक निश्चित कूट भाषा में, गुणन '+' को दर्शाता है, विभाजन 'x' को दर्शाता है, घटाव '-' और को दर्शाता है जोड़ '-' को दर्शाता है।

इसे हल करें

$$10 \div 20 - 5 + 5 \times 6 = ?$$

- Ans
- 1. 34
 - 2. 18
 - 3. 41
 - 4. 26

Question ID : 630680371623

Option 1 ID : 6306801447805

Option 2 ID : 6306801447803

Option 3 ID : 6306801447806

Option 4 ID : 6306801447804

Status : Answered

Chosen Option : 3

Q.24



(X)



(1)

(2)

(3)

(4)

उपरोक्त चार विकल्पों में से कौन सा विकल्प मूल आकृति X को अंतर्निहित करता है?

- Ans
- 1. 1
 - 2. 2
 - 3. 4
 - 4. 3

Question ID : 630680371621

Option 1 ID : 6306801447795

Option 2 ID : 6306801447796

Option 3 ID : 6306801447798

Option 4 ID : 6306801447797

Status : Answered

Chosen Option : 2

Q.25 P R Q S R T S ? ?

प्रश्न चिन्ह के स्थान पर क्या आएगा?

- Ans
- 1. U V
 - 2. U T
 - 3. T U
 - 4. V U

Question ID : 630680371609

Option 1 ID : 6306801447749

Option 2 ID : 6306801447748

Option 3 ID : 6306801447747

Option 4 ID : 6306801447750

Status : Answered

Chosen Option : 2

Section : General Knowledge and Awareness

Q.1 26 नवंबर, 1949 को भारतीय संविधान की 8वीं अनुसूची के तहत कितनी भाषाएँ सूचीबद्ध थीं?

- Ans
- 1. 28
 - 2. 14
 - 3. 22
 - 4. 21

Question ID : 630680371647
Option 1 ID : 6306801447902
Option 2 ID : 6306801447900
Option 3 ID : 6306801447901
Option 4 ID : 6306801447899
Status : Answered
Chosen Option : 2

Q.2 द्विपक्षीय सैन्य अभ्यास 'अजेय वारियर 2023' भारत और किस देश के थल सेना के मध्य आयोजित हुआ था?

- Ans
- 1. यूनाइटेड किंगडम
 - 2. फ्रांस
 - 3. थाईलैंड
 - 4. अफ्रीका

Question ID : 630680371634
Option 1 ID : 6306801447849
Option 2 ID : 6306801447850
Option 3 ID : 6306801447847
Option 4 ID : 6306801447848
Status : Answered
Chosen Option : 1

Q.3 वर्ष 2023 में किस राज्य की सरकार द्वारा जरूरतमंदों को मुफ्त कानूनी सहायता प्रदान करने के लिए 'कानूनी सहायता रक्षा परामर्श प्रणाली' लागू की गई है?

- Ans
- 1. बिहार
 - 2. मध्यप्रदेश
 - 3. उत्तरप्रदेश
 - 4. राजस्थान

Question ID : 630680371637
Option 1 ID : 6306801447860
Option 2 ID : 6306801447862
Option 3 ID : 6306801447859
Option 4 ID : 6306801447861
Status : Answered
Chosen Option : 3

Q.4 विश्व शतरंज चैंपियन मैगनस कार्लसन को हराने वाले सबसे युवा खिलाड़ी निम्नलिखित में से कौन है?

- Ans
- 1. आर प्रज्ञाननंदा
 - 2. विपुल प्रणीत
 - 3. अर्जुन एरिगैसी
 - 4. डी गुकेश

Question ID : 630680371631
Option 1 ID : 6306801447838
Option 2 ID : 6306801447835
Option 3 ID : 6306801447837
Option 4 ID : 6306801447836
Status : Answered
Chosen Option : 3

Q.5 वह मुद्रा, जिसका आंतरिक धात्विक मूल्य उसके अंकित मूल्य से कम होता है उसे क्या कहा जाता है?

- Ans
- 1. हॉट मुद्रा
 - 2. ऐक्षिक मुद्रा
 - 3. मानक मुद्रा
 - 4. टोकन मुद्रा

Question ID : 630680371639
Option 1 ID : 6306801447868
Option 2 ID : 6306801447870
Option 3 ID : 6306801447867
Option 4 ID : 6306801447869
Status : Answered
Chosen Option : 2

Q.6 हाल ही में संपन्न पक्षी महोत्सव 'कलरव' के कारण चर्चित "नागी नकटी बर्ड सेंचुरी" किस राज्य में स्थित है?

- Ans
- 1. ओडिशा
 - 2. हरियाणा
 - 3. बिहार
 - 4. असम

Question ID : 630680371649
Option 1 ID : 6306801447910
Option 2 ID : 6306801447909
Option 3 ID : 6306801447907
Option 4 ID : 6306801447908
Status : Answered
Chosen Option : 1

Q.7 वर्ष 2023 में नई दिल्ली में महिला विश्व मुक्केबाजी चैंपियनशिप के किस संस्करण का आयोजन किया गया?

- Ans
- 1. 12वें
 - 2. 13वें
 - 3. 14वें
 - 4. 11वें

Question ID : 630680371630
Option 1 ID : 6306801447832
Option 2 ID : 6306801447833
Option 3 ID : 6306801447834
Option 4 ID : 6306801447831
Status : Answered
Chosen Option : 3

Q.8 निम्न में से कौन सी भाषा भारत की राष्ट्रीय भाषा है?

- Ans
- 1. अंग्रेजी
 - 2. हिन्दी
 - 3. संस्कृत
 - 4. भारत की कोई राष्ट्रभाषा नहीं है

Question ID : 630680371646
Option 1 ID : 6306801447898
Option 2 ID : 6306801447895
Option 3 ID : 6306801447896
Option 4 ID : 6306801447897
Status : Answered
Chosen Option : 4

Q.9 भारतीय सैन्य इतिहास में निम्नलिखित में से पहली बार किस महिला अधिकारी को विश्व के सबसे ऊंचे युद्ध क्षेत्र सियाचिन में तैनात किया गया है?

- Ans
- 1. रानी रामपाल
 - 2. कैप्टन शिवा चौहान
 - 3. अबनी चतुर्वेदी
 - 4. कर्नल गीता राणा

Question ID : 630680371636
Option 1 ID : 6306801447857
Option 2 ID : 6306801447858
Option 3 ID : 6306801447855
Option 4 ID : 6306801447856
Status : Answered
Chosen Option : 2

Q.10 निम्नलिखित में से किस राज्य में जैव मंडल आरक्षित क्षेत्र नंदा देवी अवस्थित है?

- Ans
- 1. अरुणाचल प्रदेश
 - 2. उत्तराखंड
 - 3. हिमाचल प्रदेश
 - 4. सिक्किम

Question ID : 630680371650

Option 1 ID : 6306801447912

Option 2 ID : 6306801447913

Option 3 ID : 6306801447911

Option 4 ID : 6306801447914

Status : Answered

Chosen Option : 2

Q.11 रूल ऑफ़ लॉ इंडेक्स 2022 में भारत का स्थान किस क्रम पर है?

- Ans
- 1. 79वाँ
 - 2. 78वाँ
 - 3. 75वाँ
 - 4. 77वाँ

Question ID : 630680371638

Option 1 ID : 6306801447863

Option 2 ID : 6306801447864

Option 3 ID : 6306801447866

Option 4 ID : 6306801447865

Status : Answered

Chosen Option : 1

Q.12 1857 ई के क्रांति के नेता दीवान मनीराम दत्त का संबंध निम्न में से किससे है?

- Ans
- 1. कानपुर
 - 2. फतेहपुर
 - 3. बिहार
 - 4. असम

Question ID : 630680371644

Option 1 ID : 6306801447888

Option 2 ID : 6306801447890

Option 3 ID : 6306801447887

Option 4 ID : 6306801447889

Status : Answered

Chosen Option : 2

Q.13 राजा राममोहन राय द्वारा किस संस्था की स्थापना 1815 ईस्वी में की गई थी?

- Ans
- 1. आत्मीय सभा
 - 2. बालिका विद्यालय
 - 3. ब्रह्मों समाज
 - 4. वेदांत कॉलेज

Question ID : 630680371643
Option 1 ID : 6306801447885
Option 2 ID : 6306801447886
Option 3 ID : 6306801447884
Option 4 ID : 6306801447883
Status : Answered
Chosen Option : 3

Q.14 निम्नलिखित में से किस वर्ष में इंडियन नेशनल आर्मी का गठन किया गया?

- Ans
- 1. वर्ष 1940
 - 2. वर्ष 1943
 - 3. वर्ष 1942
 - 4. वर्ष 1941

Question ID : 630680371642
Option 1 ID : 6306801447880
Option 2 ID : 6306801447882
Option 3 ID : 6306801447879
Option 4 ID : 6306801447881
Status : Answered
Chosen Option : 2

Q.15 किस समिति द्वारा क्षेत्रीय ग्रामीण बैंकों के संगठन और कार्यों में संशोधन करके इनकी संरचना को और सुदृढ़ करने के संबंध में सुझाव दिया गया?

- Ans
- 1. शिवरमण सिंह समिति
 - 2. केलकर समिति
 - 3. दाँतेवाला समिति
 - 4. नरसिम्हम समिति

Question ID : 630680371641
Option 1 ID : 6306801447878
Option 2 ID : 6306801447875
Option 3 ID : 6306801447876
Option 4 ID : 6306801447877
Status : Answered
Chosen Option : 3

Q.16 नीचे उल्लेखित किस संप्रदाय के अनुसार, 'प्रकृति के संबंध में ज्ञान प्राप्त करना असंभव है यदि संभव भी है तो मोक्ष प्राप्ति के लिए व्यर्थ है,?'

- Ans
- 1. पंचरात्र संप्रदाय
 - 2. इस्लाम
 - 3. आजीवक संप्रदाय
 - 4. अजनाना संप्रदाय

Question ID : 630680371651

Option 1 ID : 6306801447918

Option 2 ID : 6306801447916

Option 3 ID : 6306801447915

Option 4 ID : 6306801447917

Status : Answered

Chosen Option : 4

Q.17 'विशु' के नाम से नव वर्ष को किस राज्य में मनाया जाता है?

- Ans
- 1. बिहार
 - 2. ओडिशा
 - 3. केरल
 - 4. कश्मीर

Question ID : 630680371648

Option 1 ID : 6306801447905

Option 2 ID : 6306801447903

Option 3 ID : 6306801447904

Option 4 ID : 6306801447906

Status : Answered

Chosen Option : 4

Q.18 'रिहला' नामक प्रसिद्ध यात्रा वृत्तांत पुस्तक रूप में किस भाषा में लिखी गई है?

- Ans
- 1. उर्दू
 - 2. तुर्की
 - 3. पर्सियन
 - 4. अरबी

Question ID : 630680371645

Option 1 ID : 6306801447891

Option 2 ID : 6306801447893

Option 3 ID : 6306801447892

Option 4 ID : 6306801447894

Status : Answered

Chosen Option : 2

Q.19 प्रथमतया किस वर्ष एसईसीसी के तहत जाति आधारित जनगणना शुरू की गई थी?

- Ans
- 1. 1921ई
 - 2. 1872ई
 - 3. 1881ई
 - 4. 1931ई

Question ID : 630680371652
Option 1 ID : 6306801447921
Option 2 ID : 6306801447919
Option 3 ID : 6306801447920
Option 4 ID : 6306801447922
Status : Answered
Chosen Option : 4

Q.20 निम्न में से किस शैवाल का प्रयोग आयोडीन के रूप में किया जाता है?

- Ans
- 1. बेसिलस
 - 2. क्लोरला
 - 3. लेमिनेरिया
 - 4. बीगल

Question ID : 630680371654
Option 1 ID : 6306801447930
Option 2 ID : 6306801447928
Option 3 ID : 6306801447929
Option 4 ID : 6306801447927
Status : Answered
Chosen Option : 3

Q.21 नासा के अंतर्राष्ट्रीय वायु एवं अंतरिक्ष कार्यक्रम को पूरा करने वाली पहली भारतीय महिला होने का श्रेय किसे प्राप्त है?

- Ans
- 1. अंतिम पंघाल
 - 2. जाहनवी डांगेटी
 - 3. मनीषा कल्याण
 - 4. अवनी चतुर्वेदी

Question ID : 630680371633
Option 1 ID : 6306801447846
Option 2 ID : 6306801447843
Option 3 ID : 6306801447845
Option 4 ID : 6306801447844
Status : Answered
Chosen Option : 2

Q.22 'Cervavac वैक्सीन निम्न में से किसमें प्रयुक्त होता है?

- Ans
- 1. सिरोसिस एवं यकृत कैंसर में
 - 2. सर्वाइकल कैंसर से लड़ने में
 - 3. न्यूमोकोकल रोग से बचाव में
 - 4.

जानवरों के लिए विकसित भारत का पहला कोविड-19 वैक्सीन

Question ID : 630680371632

Option 1 ID : 6306801447841

Option 2 ID : 6306801447840

Option 3 ID : 6306801447842

Option 4 ID : 6306801447839

Status : Answered

Chosen Option : 4

Q.23 हाल ही में किन्हें 'केंद्रीय जांच ब्यूरो' के निर्देशक के पद पर नियुक्त किया गया है?

- Ans
- 1. राजीव बहल
 - 2. प्रवीण सूद
 - 3. रवि सिन्हा
 - 4. ऋषि कुमार शुक्ला

Question ID : 630680371635

Option 1 ID : 6306801447853

Option 2 ID : 6306801447852

Option 3 ID : 6306801447851

Option 4 ID : 6306801447854

Status : Answered

Chosen Option : 2

Q.24 राष्ट्रीय कृषि एवं ग्रामीण विकास बैंक की स्थापना का वर्ष निम्न दिए विकल्पों में से चुने?

- Ans
- 1. 1982
 - 2. 1981
 - 3. 1984
 - 4. 1980

Question ID : 630680371640

Option 1 ID : 6306801447874

Option 2 ID : 6306801447872

Option 3 ID : 6306801447873

Option 4 ID : 6306801447871

Status : Answered

Chosen Option : 3

Q.25 भारतीय संविधान के अंतर्गत 'एकल नागरिकता' के प्रावधान हेतु किस देश के संविधान से प्रेरणा ली गई है?

- Ans
- 1. संयुक्त राज्य अमेरिका
 - 2. ऑस्ट्रेलिया
 - 3. कनाडा
 - 4. ब्रिटेन

Question ID : 630680371653

Option 1 ID : 6306801447923

Option 2 ID : 6306801447924

Option 3 ID : 6306801447925

Option 4 ID : 6306801447926

Status : Answered

Chosen Option : 1

Section : Elementary Mathematics

Q.1 अमन को 25% छूट पर एक नई कुर्सी मिली। यदि अमन को कोई छूट नहीं मिलती, तो अमन को 325 रुपये का भुगतान करना पड़ता। तो अमन ने कुर्सी के लिए कितना भुगतान किया?

- Ans
- 1. 975 रुपये
 - 2. 1250 रुपये
 - 3. 1300 रुपये
 - 4. 1170 रुपये

Question ID : 630680371668

Option 1 ID : 6306801447983

Option 2 ID : 6306801447985

Option 3 ID : 6306801447986

Option 4 ID : 6306801447984

Status : Answered

Chosen Option : 3

Q.2 यदि श्रावती 5 किमी/घंटा के बजाय 17 किमी/घंटा की गति से दौड़ती, तो वह 24 कि.मी. अधिक दूरी पूरी करती। उसके द्वारा तय की गई वास्तविक दूरी है।

- Ans
- 1. 10 कि.मी.
 - 2. 18 कि.मी.
 - 3. 14 कि.मी.
 - 4. 24 कि.मी.

Question ID : 630680371675

Option 1 ID : 6306801448014

Option 2 ID : 6306801448011

Option 3 ID : 6306801448012

Option 4 ID : 6306801448013

Status : Answered

Chosen Option : 1

Q.3 दो संख्याएँ तीसरी संख्या से क्रमशः 45% और 60% अधिक हैं। दोनों संख्याओं का अनुपात क्या है?

- Ans 1. 29: 32
 2. 14: 16
 3. 147: 162
 4. 20: 35

Question ID : 630680371671
Option 1 ID : 6306801447995
Option 2 ID : 6306801447996
Option 3 ID : 6306801447998
Option 4 ID : 6306801447997
Status : Answered
Chosen Option : 1

Q.4 एक आदमी एक कैमरा A को 20% के लाभ पर 7200 रुपये में बेचता है। और दूसरा कैमरा B को 5% की हानि पर 9500 रुपये में बेचता है। उसकी कुल हानि या लाभ% ज्ञात कीजिए।

- Ans 1. 6.5% लाभ
 2. 3.45% हानि
 3. 5.67% हानि
 4. 4.38% लाभ

Question ID : 630680371667
Option 1 ID : 6306801447982
Option 2 ID : 6306801447979
Option 3 ID : 6306801447981
Option 4 ID : 6306801447980
Status : Answered
Chosen Option : 4

Q.5 किसी संख्या का 60% उस संख्या के चार-पाँचवें से 20 कम है। संख्या ज्ञात करें।

- Ans 1. 100
 2. 140
 3. 120
 4. 80

Question ID : 630680371662
Option 1 ID : 6306801447960
Option 2 ID : 6306801447962
Option 3 ID : 6306801447961
Option 4 ID : 6306801447959
Status : Answered
Chosen Option : 1

Q.6 2 साल में 15,000 रुपये पर अर्जित चक्रवृद्धि ब्याज और साधारण ब्याज के बीच का अंतर 384 रुपये है, प्रति वर्ष ब्याज दर ज्ञात कीजिए।

- Ans**
- 1. 14%
 - 2. 16%
 - 3. 18%
 - 4. 20%

Question ID : 630680371674
 Option 1 ID : 6306801448007
 Option 2 ID : 6306801448008
 Option 3 ID : 6306801448009
 Option 4 ID : 6306801448010
 Status : Answered
 Chosen Option : 3

Q.7 वार्षिक रूप से संयोजित 2 साल के लिए 5% प्रति वर्ष की दर से 6800 रुपये पर चक्रवृद्धि ब्याज ज्ञात करें।

- Ans**
- 1. 789 रुपये
 - 2. 812 रुपये
 - 3. 697 रुपये
 - 4. 750 रुपये

Question ID : 630680371673
 Option 1 ID : 6306801448005
 Option 2 ID : 6306801448006
 Option 3 ID : 6306801448003
 Option 4 ID : 6306801448004
 Status : Answered
 Chosen Option : 3

Q.8 सिल्पा एक लैपटॉप खरीदना चाहती है जिसका अंकित मूल्य 9% जीएसटी को छोड़कर 39240 रुपये है। लेकिन उसके पास केवल 39240 रुपये हैं इसलिए उसने दुकानदार से लैपटॉप की कीमत इस तरह कम करने का अनुरोध किया कि उसे जीएसटी सहित केवल 39240 रुपये का भुगतान करना पड़े। दुकानदार द्वारा कम की गई राशि ज्ञात कीजिए।

- Ans**
- 1. 3335 रुपये
 - 2. 3600 रुपये
 - 3. 3240 रुपये
 - 4. 4200 रुपये

Question ID : 630680371665
 Option 1 ID : 6306801447971
 Option 2 ID : 6306801447973
 Option 3 ID : 6306801447974
 Option 4 ID : 6306801447972
 Status : Answered
 Chosen Option : 1

Q.9 अरुण को एक निश्चित समय पर एक निश्चित स्थान पर पहुंचना है और वह पाता है कि यदि वह 6 कि.मी./घंटा की गति से चलता है तो वह 25 मिनट देर से पहुंचेगा और यदि वह 8 कि.मी./घंटा की गति से चलता है तो 15 मिनट पहले पहुंचेगा। ज्ञात कीजिए कि उसे कितनी दूरी तय करनी होगी?

- Ans 1. 16 km
 2. 25 km
 3. 18 km
 4. 20 km

Question ID : 630680371677
Option 1 ID : 6306801448020
Option 2 ID : 6306801448019
Option 3 ID : 6306801448022
Option 4 ID : 6306801448021
Status : Answered
Chosen Option : 4

Q.10 निम्नलिखित में से कौन सा एक पूर्ण वर्ग नहीं है?

- Ans 1. 7864
 2. 15129
 3. 9604
 4. 17956

Question ID : 630680371655
Option 1 ID : 6306801447933
Option 2 ID : 6306801447932
Option 3 ID : 6306801447934
Option 4 ID : 6306801447931
Status : Answered
Chosen Option : 3

Q.11 बाँस के वेतन को ध्यान में न रखने पर औसत वेतन 1000 रुपये कम हो जाता है। यदि 10 कर्मचारियों और बाँस का औसत वेतन 15000 रुपये है तो बाँस का वेतन क्या होगा?

- Ans 1. 25000 रुपये
 2. 28000 रुपये
 3. 29000 रुपये
 4. 22000 रुपये

Question ID : 630680371661
Option 1 ID : 6306801447958
Option 2 ID : 6306801447955
Option 3 ID : 6306801447956
Option 4 ID : 6306801447957
Status : Answered
Chosen Option : 3

Q.12 एक फार्म में 5 मुर्गियों के साथ 4 बकरियाँ और 8 घोड़े और कुछ किसान भी थे। यदि पैरों की कुल संख्या सिर की संख्या से 52 अधिक है, तो किसानों की संख्या ज्ञात करें।

- Ans
- ✓ 1. 11
 - ✗ 2. 8
 - ✗ 3. 13
 - ✗ 4. 15

Question ID : 630680371656
Option 1 ID : 6306801447936
Option 2 ID : 6306801447935
Option 3 ID : 6306801447937
Option 4 ID : 6306801447938
Status : Answered
Chosen Option : 3

Q.13 हेमा ने 84200 रुपये में एक स्कूटर बेचा और उसे 4200 रुपये का घाटा हुआ। उसका हानि प्रतिशत ज्ञात कीजिए।

- Ans
- ✗ 1. 6.65%
 - ✗ 2. 5.9%
 - ✓ 3. 4.75%
 - ✗ 4. 7.76%

Question ID : 630680371666
Option 1 ID : 6306801447975
Option 2 ID : 6306801447978
Option 3 ID : 6306801447976
Option 4 ID : 6306801447977
Status : Answered
Chosen Option : 3

Q.14 दी गई पाँच संख्याओं का औसत 48 है। यदि एक संख्या हटा दी जाए, तो औसत 42 हो जाता है। निकाली गई संख्या ज्ञात कीजिए।

- Ans
- ✗ 1. 63
 - ✗ 2. 85
 - ✗ 3. 42
 - ✓ 4. 72

Question ID : 630680371660
Option 1 ID : 6306801447954
Option 2 ID : 6306801447951
Option 3 ID : 6306801447952
Option 4 ID : 6306801447953
Status : Answered
Chosen Option : 4

Q.15 एक पाइप दूसरे पाइप की तुलना में चार गुना तेजी से एक टैंक भर सकता है। यदि दोनों पाइप मिलकर टैंक को 25 मिनट में भर सकते हैं, तो धीमा पाइप अकेले टैंक को कितने मिनट में भर पाएगा?

- Ans
- ✗ 1. 205 मिनट
 - ✗ 2. 155 मिनट
 - ✗ 3. 205 मिनट
 - ✓ 4. 125 मिनट

Question ID : 630680371679

Option 1 ID : 6306801448027

Option 2 ID : 6306801448029

Option 3 ID : 6306801448030

Option 4 ID : 6306801448028

Status : Answered

Chosen Option : 3

Q.16 एक छात्रावास में 420 छात्रों के लिए 40 दिनों का राशन था। 18 दिनों के बाद, 200 और छात्र छात्रावास में शामिल होते हैं। बचा हुआ राशन कब तक चलेगा?

- Ans
- ✗ 1. $14\frac{1}{31}$ दिन
 - ✗ 2. $4\frac{18}{3}$ दिन
 - ✓ 3. $14\frac{28}{31}$ दिन
 - ✗ 4. $14\frac{31}{14}$ दिन

Question ID : 630680371678

Option 1 ID : 6306801448025

Option 2 ID : 6306801448024

Option 3 ID : 6306801448026

Option 4 ID : 6306801448023

Status : Answered

Chosen Option : 3

Q.17 यदि $a : b = 4 : 3$ और $b : c = 5 : 6$, तो $a : b : c$ ज्ञात करें।

- Ans
- ✗ 1. 6:5:3
 - ✗ 2. 2:4:7
 - ✓ 3. 4:3:6
 - ✗ 4. 5:4:6

Question ID : 630680371669

Option 1 ID : 6306801447989

Option 2 ID : 6306801447987

Option 3 ID : 6306801447990

Option 4 ID : 6306801447988

Status : Answered

Chosen Option : 1

Q.18 $\frac{6\sqrt{2} \times 7\sqrt{2}}{\sqrt{9} - \sqrt{4}} = ?$

- Ans
- ✓ 1. 84
 - ✗ 2. 40
 - ✗ 3. 14
 - ✗ 4. 42

Question ID : 630680371658

Option 1 ID : 6306801447944

Option 2 ID : 6306801447943

Option 3 ID : 6306801447946

Option 4 ID : 6306801447945

Status : Answered

Chosen Option : 1

Q.19 परिवार के 6 सदस्यों की औसत आयु 70 वर्ष है। लेकिन उनमें से 5 की औसत आयु 60 वर्ष 6 महीने है। परिवार के छठे सदस्य की आयु क्या है?

- Ans
- ✗ 1. 100 वर्ष 6 महीने
 - ✓ 2. 117 वर्ष 6 महीने
 - ✗ 3. 89 वर्ष 6 महीने
 - ✗ 4. 95 वर्ष 6 महीने

Question ID : 630680371659

Option 1 ID : 6306801447948

Option 2 ID : 6306801447947

Option 3 ID : 6306801447950

Option 4 ID : 6306801447949

Status : Answered

Chosen Option : 2

Q.20 x का मान ज्ञात करें, अगर $\sqrt{14.44} + \sqrt{9+x^2} = 8.8$

- Ans
- ✓ 1. 4
 - ✗ 2. 2
 - ✗ 3. 5
 - ✗ 4. 7

Question ID : 630680371657

Option 1 ID : 6306801447941

Option 2 ID : 6306801447942

Option 3 ID : 6306801447940

Option 4 ID : 6306801447939

Status : Answered

Chosen Option : 4

Q.21 एक शहर की कुल जनसंख्या 5500 है। पुरुषों और महिलाओं की संख्या में क्रमशः 5% और 10% की वृद्धि होती है और परिणामस्वरूप जनसंख्या 6000 हो जाती है। गाँव में पुरुषों की संख्या ज्ञात कीजिए।

- Ans
- 1. 2000
 - 2. 5500
 - 3. 1000
 - 4. 3500

Question ID : 630680371664
 Option 1 ID : 6306801447967
 Option 2 ID : 6306801447968
 Option 3 ID : 6306801447969
 Option 4 ID : 6306801447970
 Status : Not Answered
 Chosen Option : --

Q.22 शांत पानी में नाव की गति और धारा की गति के बीच का अनुपात 10:6 है। नाव धारा के अनुकूल 42 कि.मी. और धारा के प्रतिकूल 34 कि.मी. की दूरी तय करती है और इसमें कुल 6 घंटे का समय लगता है। नाव की धारा के अनुकूल गति ज्ञात कीजिए।

- Ans
- 1. 25.44 कि.मी./घंटा
 - 2. 36.22 कि.मी./घंटा
 - 3. 29.66 कि.मी./घंटा
 - 4. 32 कि.मी./घंटा

Question ID : 630680371676
 Option 1 ID : 6306801448018
 Option 2 ID : 6306801448017
 Option 3 ID : 6306801448015
 Option 4 ID : 6306801448016
 Status : Answered
 Chosen Option : 3

Q.23 8 महीने के लिए 16% प्रति वर्ष की दर से 848 रुपये पर साधारण ब्याज ज्ञात करें:

- Ans
- 1. 94.4 रुपये
 - 2. 90.45 रुपये
 - 3. 75 रुपये
 - 4. 85.6 रुपये

Question ID : 630680371672
 Option 1 ID : 6306801448000
 Option 2 ID : 6306801448001
 Option 3 ID : 6306801448002
 Option 4 ID : 6306801447999
 Status : Answered
 Chosen Option : 2

Q.24 लेथ मशीन का मूल्य प्रति वर्ष 15% की दर से घटता है। यदि वर्तमान में मशीन की लागत 150,000 रुपये है, तो 2 वर्ष बाद इसका मूल्य क्या होगा?

- Ans
- 1. 118375 रुपये
 - 2. 108000 रुपये
 - 3. 125000 रुपये
 - 4. 108375 रुपये

Question ID : 630680371663
 Option 1 ID : 6306801447965
 Option 2 ID : 6306801447966
 Option 3 ID : 6306801447964
 Option 4 ID : 6306801447963
 Status : Answered
 Chosen Option : 4

Q.25 एक मिश्रण में अल्कोहल और पानी का अनुपात 5:4 है। यदि मिश्रण में 4 लीटर पानी मिलाया जाता है, तो अनुपात 7:9 हो जाता है। दिए गए मिश्रण में अल्कोहल की मात्रा ज्ञात करें?

- Ans
- 1. 9 लीटर
 - 2. 9.25 लीटर
 - 3. 8 लीटर
 - 4. 8.25 लीटर

Question ID : 630680371670
 Option 1 ID : 6306801447993
 Option 2 ID : 6306801447994
 Option 3 ID : 6306801447991
 Option 4 ID : 6306801447992
 Status : Answered
 Chosen Option : 1

Section : English

Q.1 Select the word that needs to be changed to make the sentence correct.

Simon is written a novel about wildlife heritage.

- Ans
- 1. heritage
 - 2. about
 - 3. written
 - 4. is

Question ID : 630680371682
 Option 1 ID : 6306801448041
 Option 2 ID : 6306801448039
 Option 3 ID : 6306801448042
 Option 4 ID : 6306801448040
 Status : Not Answered
 Chosen Option : --

Q.2 Select the most appropriate SYNONYM of the given word below.

When we talk about healthy food, it contains a **plethora** of nutrients.

- Ans**
- 1. inadequacy
 - 2. scarcity
 - 3. abundance
 - 4. deficiency

Question ID : **630680371699**
Option 1 ID : **6306801448110**
Option 2 ID : **6306801448109**
Option 3 ID : **6306801448108**
Option 4 ID : **6306801448107**
Status : **Not Answered**
Chosen Option : --

Q.3 Select the most appropriate options from below which changes the following direct sentences into indirect sentences.

Jack said, "Jill needs a pen."

- Ans**
- 1. A pen was needed by Jill, was said by Jack.
 - 2. Jack said that Jill needed a pen.
 - 3. Jill told that a pen was needed by her.
 - 4. Jack is saying that Jill needs a pen.

Question ID : **630680371686**
Option 1 ID : **6306801448058**
Option 2 ID : **6306801448057**
Option 3 ID : **6306801448055**
Option 4 ID : **6306801448056**
Status : **Not Answered**
Chosen Option : --

Q.4 In the following question a statement has been given with highlighted text. You are required to replace the text with correct Idioms or phrases given in the options.

John suggested playing a party game to **make people feel more relaxed who have not met before.**

- Ans**
- 1. Break the ice
 - 2. costs an arm and a leg
 - 3. chip off the old block
 - 4. call it a day

Question ID : **630680371694**
Option 1 ID : **6306801448087**
Option 2 ID : **6306801448090**
Option 3 ID : **6306801448089**
Option 4 ID : **6306801448088**
Status : **Not Answered**
Chosen Option : --

Q.5 In the following question a statement has been given with highlighted text. You are required to replace the text with correct Idioms or phrases given in the options.

When they heard about the history quiz, the students were **not at all** excited.

- Ans**
- 1. Bite the bullet
 - 2. Bigger fish to fry
 - 3. Anything but
 - 4. Beat around the bush

Question ID : 630680371693
Option 1 ID : 6306801448086
Option 2 ID : 6306801448085
Option 3 ID : 6306801448083
Option 4 ID : 6306801448084
Status : Not Answered
Chosen Option : --

Q.6 Select the most appropriate SYNONYM of the given word below.

For our ecosystem, wildlife is an **essential** aspect.

- Ans**
- 1. needless
 - 2. unwanted
 - 3. imperative
 - 4. dispensable

Question ID : 630680371698
Option 1 ID : 6306801448103
Option 2 ID : 6306801448104
Option 3 ID : 6306801448106
Option 4 ID : 6306801448105
Status : Not Answered
Chosen Option : --

Q.7 Choose the correct word from the given options that suits the question.

Houses built near the _____ are at greater risk of flooding.

- Ans**
- 1. sole
 - 2. soul
 - 3. sure
 - 4. shore

Question ID : 630680371701
Option 1 ID : 6306801448117
Option 2 ID : 6306801448116
Option 3 ID : 6306801448115
Option 4 ID : 6306801448118
Status : Not Answered
Chosen Option : --

Q.8 Parts of the following sentence have been given as option that contains an error in spelling. Select the option that contains the wrong spelling.

Bad news is preferable to an abcense of information.

- Ans**
- 1. information
 - 2. abcense
 - 3. preferable
 - 4. news

Question ID : 630680371704

Option 1 ID : 6306801448128

Option 2 ID : 6306801448129

Option 3 ID : 6306801448130

Option 4 ID : 6306801448127

Status : Not Answered

Chosen Option : --

Q.9 Parts of the following sentence have been given as option that contains an error in spelling. Select the option that contains the wrong spelling.

To address the problem of pollution, we need to take collective action at all levels.

- Ans**
- 1. problem
 - 2. address
 - 3. action
 - 4. collective

Question ID : 630680371703

Option 1 ID : 6306801448124

Option 2 ID : 6306801448125

Option 3 ID : 6306801448126

Option 4 ID : 6306801448123

Status : Not Answered

Chosen Option : --

Q.10 Select the most appropriate options from below which changes the following active sentences into passive voice.

They have brought the statue from Mumbai.

- Ans**
- 1. The statue had been bring by them from Mumbai.
 - 2. From Mumbai the statues were brought.
 - 3. The statue has been brought by them from Mumbai.
 - 4. The statues are brought from Mumbai.

Question ID : 630680371688

Option 1 ID : 6306801448066

Option 2 ID : 6306801448065

Option 3 ID : 6306801448064

Option 4 ID : 6306801448063

Status : Not Answered

Chosen Option : --

Q.11 Select the word that needs to be changed to make the sentence correct.

He has plays the guitar very well.

- Ans
- 1. has
 - 2. well
 - 3. plays
 - 4. He

Question ID : 630680371684
Option 1 ID : 6306801448048
Option 2 ID : 6306801448050
Option 3 ID : 6306801448047
Option 4 ID : 6306801448049
Status : Not Answered
Chosen Option : --

Q.12 Select the word that needs to be changed to make the sentence correct.

He loves to reads books about history in his spare time.

- Ans
- 1. about
 - 2. reads
 - 3. loves
 - 4. in

Question ID : 630680371685
Option 1 ID : 6306801448052
Option 2 ID : 6306801448053
Option 3 ID : 6306801448051
Option 4 ID : 6306801448054
Status : Not Answered
Chosen Option : --

Q.13 Select the most appropriate options from below which changes the following active sentences into passive voice.

They are drawing pictures.

- Ans
- 1. They drew very good pictures.
 - 2. Pictures were drew by them.
 - 3. Pictures are being drawn by them.
 - 4. They drawing the pictures.

Question ID : 630680371689
Option 1 ID : 6306801448067
Option 2 ID : 6306801448069
Option 3 ID : 6306801448068
Option 4 ID : 6306801448070
Status : Not Answered
Chosen Option : --

Q.14 Choose the most appropriate one-word substitution for the below word.

“One who knows everything”

- Ans
- 1. atheist
 - 2. disbeliever
 - 3. Omniscient
 - 4. sceptic

Question ID : 630680371680
Option 1 ID : 6306801448031
Option 2 ID : 6306801448033
Option 3 ID : 6306801448032
Option 4 ID : 6306801448034
Status : Not Answered
Chosen Option : --

Q.15 Select the most appropriate options from below which changes the following direct sentences into indirect sentences.

I have been to Germany, she told me.

- Ans
- 1. She told me that she had been to Germany.
 - 2. She has been going to Germany was told by her.
 - 3. She is saying that she went to Germany.
 - 4. She has been telling that she went to Germany.

Question ID : 630680371687
Option 1 ID : 6306801448059
Option 2 ID : 6306801448060
Option 3 ID : 6306801448062
Option 4 ID : 6306801448061
Status : Not Answered
Chosen Option : --

Q.16 Select the word that needs to be changed to make the sentence correct.

Everyone like to watch a magic show.

- Ans
- 1. magic
 - 2. like
 - 3. to
 - 4. Everyone

Question ID : 630680371683
Option 1 ID : 6306801448045
Option 2 ID : 6306801448044
Option 3 ID : 6306801448043
Option 4 ID : 6306801448046
Status : Not Answered
Chosen Option : --

Q.17 Choose the correct word from the given options that suits the question.

Everyone is invited to the party _____ for Andrew.

- Ans
- 1. expect
 - 2. except
 - 3. accept
 - 4. accept

Question ID : 630680371700
Option 1 ID : 6306801448112
Option 2 ID : 6306801448114
Option 3 ID : 6306801448113
Option 4 ID : 6306801448111
Status : Not Answered
Chosen Option : --

Q.18 In the following question a statement has been given with highlighted text. You are required to replace the text with correct Idioms or phrases given in the options.

It was Alice's first day at her new school, and she felt **in an uncomfortable position**.

- Ans
- 1. all ears
 - 2. a fish out of water
 - 3. be a fly on the wall
 - 4. add insult to injury

Question ID : 630680371692
Option 1 ID : 6306801448080
Option 2 ID : 6306801448082
Option 3 ID : 6306801448081
Option 4 ID : 6306801448079
Status : Not Answered
Chosen Option : --

Q.19 Choose the most appropriate one-word substitution for the below word.

“A hole or tunnel dug by a small animal, especially a rabbit, as a dwelling”

- Ans
- 1. Casino
 - 2. Burrow
 - 3. Aquarium
 - 4. Drey

Question ID : 630680371681
Option 1 ID : 6306801448035
Option 2 ID : 6306801448037
Option 3 ID : 6306801448036
Option 4 ID : 6306801448038
Status : Not Answered
Chosen Option : --

Q.20 Select the most appropriate meaning of the idiom below.

“Spill the beans”

Ans 1. To wish someone luck

2.

a piece of information that is only known by one person or a few people and should not be told to others

3.

the particular knowledge and skills needed to do something very well

4. to tell people secret information

Question ID : 630680371690

Option 1 ID : 6306801448074

Option 2 ID : 6306801448071

Option 3 ID : 6306801448073

Option 4 ID : 6306801448072

Status : Not Answered

Chosen Option : --

Q.21 Select the most appropriate SYNONYM of the given word below.

In today's scenario, consumption of junk food is increasing **rapidly**, due to which the fast-food market is also growing fast.

Ans 1. quickly

2. sluggishly

3. deliberately

4. slowly

Question ID : 630680371697

Option 1 ID : 6306801448100

Option 2 ID : 6306801448101

Option 3 ID : 6306801448102

Option 4 ID : 6306801448099

Status : Not Answered

Chosen Option : --

Q.22 Parts of the following sentence have been given as option that contains an error in spelling. Select the option that contains the wrong spelling.

Biodiversity is commonly defined as the variety of life on Earth in all its forms, including the diversity of species, there genetic variations, and the interaction of these lifeforms.

Ans 1. interaction

2. diversity

3. there

4. genetic

Question ID : 630680371702

Option 1 ID : 6306801448120

Option 2 ID : 6306801448122

Option 3 ID : 6306801448119

Option 4 ID : 6306801448121

Status : Not Answered

Chosen Option : --

Q.23 Select the most appropriate SYNONYM of the given word below.

Offense

- Ans
- 1. virtue
 - 2. violation
 - 3. morality
 - 4. innocence

Question ID : 630680371695
Option 1 ID : 6306801448094
Option 2 ID : 6306801448093
Option 3 ID : 6306801448092
Option 4 ID : 6306801448091
Status : Not Answered
Chosen Option : --

Q.24 Select the most appropriate meaning of the idiom below.

“Sit on the fence”

- Ans
- 1. to delay making a decision
 - 2. to know why or how something happens or works
 - 3. to know the meaning of something that someone says
 - 4. the fact of not being easy to do or understand

Question ID : 630680371691
Option 1 ID : 6306801448077
Option 2 ID : 6306801448076
Option 3 ID : 6306801448078
Option 4 ID : 6306801448075
Status : Not Answered
Chosen Option : --

Q.25 Select the most appropriate SYNONYM of the given word below.

Impetuous

- Ans
- 1. Impulsive
 - 2. careful
 - 3. Unadventurous
 - 4. Cautious

Question ID : 630680371696
Option 1 ID : 6306801448098
Option 2 ID : 6306801448097
Option 3 ID : 6306801448096
Option 4 ID : 6306801448095
Status : Not Answered
Chosen Option : --

Section : Hindi

Q.1 उचित शब्द चुनकर वाक्य पूरा करे।
जो _____ हैं, उनकी सहायता करो।

- Ans
- 1. दीव
 - 2. दीन
 - 3. दिन
 - 4. दिवा

Question ID : 630680371726
Option 1 ID : 6306801448218
Option 2 ID : 6306801448217
Option 3 ID : 6306801448215
Option 4 ID : 6306801448216
Status : Answered
Chosen Option : 2

Q.2 'शक्तिहीन' शब्द का समास विग्रह निम्न में से कौन सा है?

- Ans
- 1. शक्ति हीन
 - 2. शक्ति के लिए हीन
 - 3. शक्ति से हीन
 - 4. शक्ति को हीन

Question ID : 630680371713
Option 1 ID : 6306801448164
Option 2 ID : 6306801448163
Option 3 ID : 6306801448165
Option 4 ID : 6306801448166
Status : Answered
Chosen Option : 3

Q.3 निम्न में से 'अंक' का अनेकार्थक शब्द क्या होगा?

- Ans
- 1. वस्त्र
 - 2. संख्या
 - 3. भाव
 - 4. अमृत

Question ID : 630680371720
Option 1 ID : 6306801448193
Option 2 ID : 6306801448191
Option 3 ID : 6306801448194
Option 4 ID : 6306801448192
Status : Answered
Chosen Option : 2

Q.4 निम्नलिखित वाक्यों में से 'अर्धविराम' चिन्ह का सही उदाहरण कौन-सा है?

- Ans
- 1. 'तुम मुझे खून दो मैं तुम्हें आजादी दूँगा'
 - 2. वह घुमने गया।
 - 3. यह पुस्तक अच्छी है?
 - 4. अब क्या करूँ ; वह रुठकर चला गया।

Question ID : 630680371723

Option 1 ID : 6306801448203

Option 2 ID : 6306801448204

Option 3 ID : 6306801448206

Option 4 ID : 6306801448205

Status : Answered

Chosen Option : 4

Q.5 निम्न में से 'कनक' का अनेकार्थक शब्द क्या होगा?

- Ans
- 1. ज्ञान
 - 2. तांबा
 - 3. चाँदी
 - 4. सोना

Question ID : 630680371721

Option 1 ID : 6306801448197

Option 2 ID : 6306801448195

Option 3 ID : 6306801448196

Option 4 ID : 6306801448198

Status : Answered

Chosen Option : 4

Q.6 उचित शब्द चुनकर वाक्य पूरा करें।
आपकी _____ कब समाप्त होगी?

- Ans
- 1. परीशा
 - 2. परिक्षा
 - 3. परीक्षण
 - 4. परीक्षा

Question ID : 630680371729

Option 1 ID : 6306801448229

Option 2 ID : 6306801448228

Option 3 ID : 6306801448230

Option 4 ID : 6306801448227

Status : Answered

Chosen Option : 4

Q.7 निम्नलिखित चिन्हों में से 'अल्पविराम' चिन्ह कौन-सा है?

- Ans 1. ;
 2. ;
 3. ?
 4. |

Question ID : 630680371722
 Option 1 ID : 6306801448200
 Option 2 ID : 6306801448199
 Option 3 ID : 6306801448201
 Option 4 ID : 6306801448202
 Status : Answered
 Chosen Option : 2

Q.8 'अंगारों पर पैर रखना' मुहावरों का उचित अर्थ निम्न में से कौन सा है?

- Ans 1. गुस्सा होना
 2. चाल चलना
 3. बहुत बड़े जोखिम का कार्य करना
 4. चोरी करना

Question ID : 630680371715
 Option 1 ID : 6306801448171
 Option 2 ID : 6306801448173
 Option 3 ID : 6306801448172
 Option 4 ID : 6306801448174
 Status : Answered
 Chosen Option : 3

Q.9 निम्नलिखित चिन्हों में से 'विवरण-चिन्ह' कौन-सा है?

- Ans 1. ?
 2. —
 3. :-
 4. \

Question ID : 630680371724
 Option 1 ID : 6306801448208
 Option 2 ID : 6306801448210
 Option 3 ID : 6306801448209
 Option 4 ID : 6306801448207
 Status : Answered
 Chosen Option : 3

Q.10 'शिवार्पण' शब्द में कौन - सा समास है?

- Ans
- 1. अधिकरण तत्पुरुष
 - 2. सम्बन्ध तत्पुरुष
 - 3. सम्प्रदान तत्पुरुष
 - 4. अपादान तत्पुरुष

Question ID : 630680371712

Option 1 ID : 6306801448159

Option 2 ID : 6306801448162

Option 3 ID : 6306801448160

Option 4 ID : 6306801448161

Status : Answered

Chosen Option : 1

Q.11 निम्नलिखित वाक्य में से कौन-सा वाक्य शुद्ध है?

- Ans
- 1. हमारी आयुष्मती कन्या का विवाह होने जा रहा है।
 - 2. शोक है कि आपने मेरे पत्रों का कोई उत्तर नहीं दिए।
 - 3. इस समय आपकी आयु चालीस वर्ष का है।
 - 4. लड़के मिठाई लेकर भागता हुआ घर आया।

Question ID : 630680371705

Option 1 ID : 6306801448134

Option 2 ID : 6306801448131

Option 3 ID : 6306801448132

Option 4 ID : 6306801448133

Status : Answered

Chosen Option : 2

Q.12 'ऊँची दुकान फीके पकवान' लोकोक्ति का उचित अर्थ निम्न में से कौन सा है?

- Ans
- 1. दिखावा ज़्यादा लेकिन गुण कम होना
 - 2. गुस्सा होना
 - 3. नुकसान होना
 - 4. चाल चलना

Question ID : 630680371716

Option 1 ID : 6306801448177

Option 2 ID : 6306801448178

Option 3 ID : 6306801448175

Option 4 ID : 6306801448176

Status : Answered

Chosen Option : 1

Q.13 उचित शब्द चुनकर वाक्य पूरा करे।
भोजन के लिए _____ की आवश्यकता है।

- Ans
- 1. अन
 - 2. अन्य
 - 3. अन्न
 - 4. आन

Question ID : 630680371725
Option 1 ID : 6306801448213
Option 2 ID : 6306801448211
Option 3 ID : 6306801448212
Option 4 ID : 6306801448214
Status : Answered
Chosen Option : 3

Q.14 'पुरुषोत्तम' शब्द में कौन - सा समास है?

- Ans
- 1. अपादान तत्पुरुष
 - 2. सम्बन्ध तत्पुरुष
 - 3. सम्प्रदान तत्पुरुष
 - 4. अधिकरण तत्पुरुष

Question ID : 630680371711
Option 1 ID : 6306801448156
Option 2 ID : 6306801448157
Option 3 ID : 6306801448155
Option 4 ID : 6306801448158
Status : Answered
Chosen Option : 4

Q.15 निम्नलिखित वाक्य में से कौन-सा वाक्य शुद्ध है?

- Ans
- 1. अभंग एक प्रकार का मराठी छंद होता है।
 - 2. वर्तमान महासमर संसार की सबसे बड़ी समस्या है।
 - 3. सारा राज्य उसके लिए एक थाती थी।
 - 4. वकीलों ने कागजात का निरीक्षण किए।

Question ID : 630680371706
Option 1 ID : 6306801448137
Option 2 ID : 6306801448136
Option 3 ID : 6306801448138
Option 4 ID : 6306801448135
Status : Answered
Chosen Option : 1

Q.16 'उड़ती चिड़िया पहचानना' मुहावरों का उचित अर्थ निम्न में से कौन सा है?

- Ans
- 1. गुप्त बात प्रकट करना
 - 2. उड़ती चिड़िया की प्रजाति पहचानना
 - 3. बहुत दिनों पर दिखना
 - 4. मन की या रहस्य की बात जानना

Question ID : 630680371714

Option 1 ID : 6306801448168

Option 2 ID : 6306801448170

Option 3 ID : 6306801448169

Option 4 ID : 6306801448167

Status : Answered

Chosen Option : 4

Q.17 नारी - नाड़ी युग्म का अर्थ है?

- Ans
- 1. गर्दन - स्त्री
 - 2. प्रोड़ा - गर्दन
 - 3. स्त्री - नब्ज
 - 4. सीडिया - गर्दन

Question ID : 630680371728

Option 1 ID : 6306801448226

Option 2 ID : 6306801448224

Option 3 ID : 6306801448223

Option 4 ID : 6306801448225

Status : Answered

Chosen Option : 3

Q.18 निम्न में से 'गौरव' का विलोम शब्द क्या होगा?

- Ans
- 1. गमन
 - 2. लाघव
 - 3. दोष
 - 4. अगौरव

Question ID : 630680371717

Option 1 ID : 6306801448182

Option 2 ID : 6306801448179

Option 3 ID : 6306801448181

Option 4 ID : 6306801448180

Status : Answered

Chosen Option : 2

Q.19 निम्न में से 'इंद्र' का पर्यायावाची शब्द क्या होगा?

- Ans
- 1. राकेश
 - 2. सुधारक
 - 3. देवनादी
 - 4. देवराज

Question ID : 630680371719
Option 1 ID : 6306801448190
Option 2 ID : 6306801448189
Option 3 ID : 6306801448188
Option 4 ID : 6306801448187
Status : Answered
Chosen Option : 4

Q.20 निम्न में से 'विशेष' का विलोम शब्द क्या होगा?

- Ans
- 1. विशिष्ट
 - 2. सरल
 - 3. सामान्य
 - 4. साधारण

Question ID : 630680371718
Option 1 ID : 6306801448185
Option 2 ID : 6306801448184
Option 3 ID : 6306801448186
Option 4 ID : 6306801448183
Status : Answered
Chosen Option : 3

Q.21 निम्नलिखित वाक्य में से कौन-सा वाक्य अशुद्ध है?

- Ans
- 1. कृपया आप ही यह बताएं।
 - 2. यहीं नहीं, बल्कि वे वहां से चले भी आये।
 - 3. व्यायाम करना चाहिए, जिससे कि स्वस्थ रहें।
 - 4. मेरे लिए बर्फ और आग लाओ।

Question ID : 630680371708
Option 1 ID : 6306801448145
Option 2 ID : 6306801448143
Option 3 ID : 6306801448144
Option 4 ID : 6306801448146
Status : Answered
Chosen Option : 4

Q.22 निम्न में से 'वसन्त' का विलोम शब्द क्या होगा?

- Ans
- 1. पतझड़
 - 2. गर्मी
 - 3. शीतोष्ण
 - 4. सर्दी

Question ID : 630680371707
Option 1 ID : 6306801448142
Option 2 ID : 6306801448141
Option 3 ID : 6306801448139
Option 4 ID : 6306801448140
Status : Answered
Chosen Option : 3

Q.23 निम्न में से 'दास' का पर्यायावाची शब्द क्या होगा?

- Ans
- 1. देव
 - 2. राव
 - 3. चाकर
 - 4. उरग

Question ID : 630680371709
Option 1 ID : 6306801448148
Option 2 ID : 6306801448149
Option 3 ID : 6306801448147
Option 4 ID : 6306801448150
Status : Answered
Chosen Option : 3

Q.24 "विद्यालय" का संधि-विच्छेद क्या होगा?

- Ans
- 1. विद्या + आलय
 - 2. इनमें से कोई नहीं
 - 3. विद्या + लय
 - 4. वि + आलय

Question ID : 630680371710
Option 1 ID : 6306801448153
Option 2 ID : 6306801448154
Option 3 ID : 6306801448151
Option 4 ID : 6306801448152
Status : Answered
Chosen Option : 1

Q.25 भवन - भुवन युग्म का अर्थ है?

- Ans
- 1. घर - गजत
 - 2. घर - विश्व
 - 3. मकान - संसार
 - 4. घर - सुंदर वन

Question ID : 630680371727

Option 1 ID : 6306801448219

Option 2 ID : 6306801448222

Option 3 ID : 6306801448220

Option 4 ID : 6306801448221

Status : Answered

Chosen Option : 3